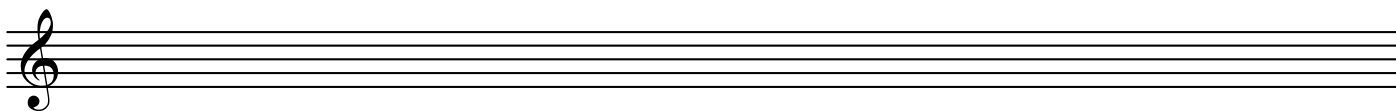



1. ročník - 1. pololetí

1. Napiš celý řádek klíčů. Jak se jmenuje?



2. Napiš hudební abecedu (c1 - c2), je to zároveň stupnice C dur, nauč se jí vyjmenovat nahoru i dolů. (Nezapomeň notovou osnovu otevřít klíčem!)



3. Co je to stupnice?

.....
.....

4. Co je to tónina?


.....
.....

5. Co je to trojzvuk? (Tónický kvintakord) Napiš ho v tónině C dur.


Z kolika tónů se skládá?

Napiš vedle ještě stupnici C dur a barevně označ tóny trojzvuku.

Na kterých stupních ve stupnici jsou?.....




6. Správně spoj jednotlivé hodnoty not a pomlk. Na kolik dob se počítají (ve $\frac{4}{4}$ taktu)? A jak se jmenují?



7. - Doplň správně taktové čáry

- Napiš pod noty názvy tónů

- Vytleskej s hlasitým počítáním



Co je toto?

8. Do kolika se počítá v tomto taktu?

Najdi ke každému jednu lidovou písničku.

2
4

3
4

4
4

9. Znalost not v houslovém klíči c1 - c3

(klavíristé + basový klíč c - c1)